

Intervalle, Dreiklänge (Dur/ Moll)

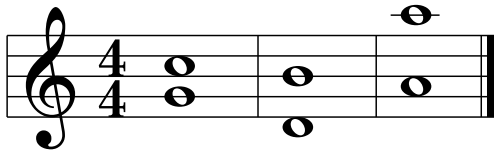
Name: _____

Lösungen

Klasse: _____


Intervallgrobbestimmung, Dreiklänge, Akkordsymbol

1a Wie heißen folgende Intervalle? (Grobbestimmung)




Quart Sext Oktav

1b Notiere die entsprechenden Intervalle aufwärts:



Sept Quint Sext

2 Wie heißen folgende Sekunden und Terzen? (Feinbestimmung mit den Abkürzungen k2, g2, k3, g3)



g2 k3 k2 k3 g2 g2 g3 g3

3 Notiere die entsprechenden Terzen aufwärts.



g3 k3 g3 g3 g3 k3 g3 k3

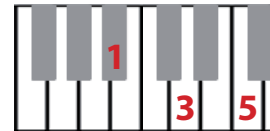
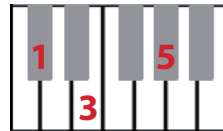
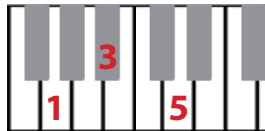
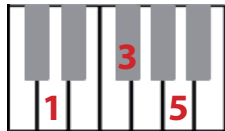
4 „Spiele“ folgende Dreiklänge: Grundton=1, Terzton=3, Quintton=5

D

Gm

C#m

Bb



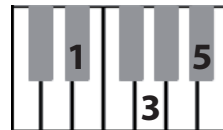
5 Bezeichne die Dreiklänge mit dem richtigen Akkordsymbol.

Em

H

Eb

A

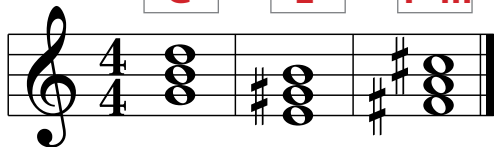


6a Wie heißt das richtige Akkordsymbol.

G

E

F#m



6b Notiere folgende Dreiklänge

Dm

Fm

Db



3+3

8

8

4

4

6

36

check