


Terzen – Dreiklänge


Name _____

Arbeitsblatt 2


Bestimme folgende Terzen: (k3 oder g3)



Notiere die entsprechenden Terzen aufwärts:

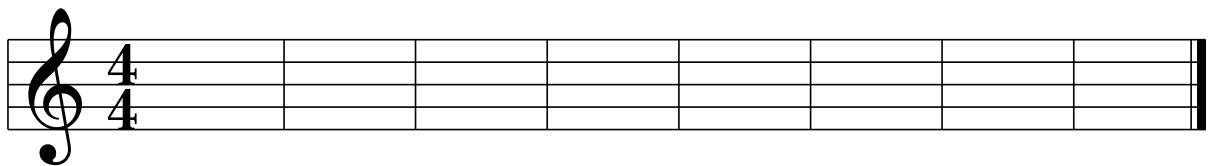


Bestimme folgende Dreiklänge: Akkordsymbol: Dur > GrundTon (gross geschrieben), Moll > GT+m

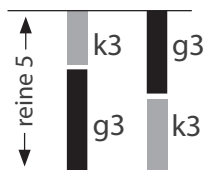


GT
Grundton

Notiere folgende Dreiklänge:



C Dm G Fm Hm Em F#m B^b



Dur Moll

GT HT



1 1/2

3



k13 (nur 1 schw. Taste)

2

4



gr3

